

中文姓名: \_\_\_\_\_

13(31)-1

英文姓名: \_\_\_\_\_

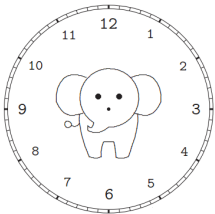
成績 : \_\_\_\_\_

$$\begin{array}{r} \square \ 1 \\ + \quad \square \\ \hline 2 \ 8 \end{array} \quad \begin{array}{r} 2 \ 7 \\ - \quad \square \\ \hline \square \ 6 \end{array}$$

	8	9	1 0
+	9	+ 1 1	- 2

**1. Please draw the clock hands:**

1. 画时针跟分针：




五点 三十分。

05 : 30.

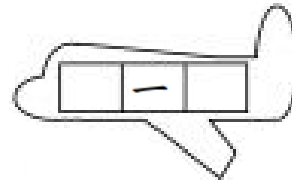
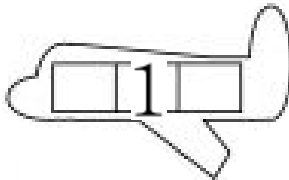
**2. Please write down what time it is:**

2. 这是几点？



**Please write down before and after numbers:**

For calendar question: before number is yesterday's date & after number is tomorrow's date.



1.Q: 今天是几月几号/日?

1.A: 今天是 \_\_\_\_\_

1.Q: 今天星期几?

1.A: 今天是星期 \_\_\_\_\_

2.Q: 明天是几月几号/日?

2.A: 明天是 \_\_\_\_\_

2.Q: 明天星期几?

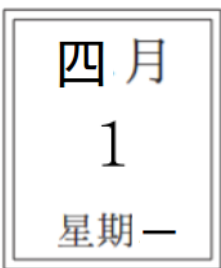
2.A: 明天是星期 \_\_\_\_\_

3.Q: 昨天是几月几号/日?

3.A: 昨天是 \_\_\_\_\_

3.Q: 昨天星期几?

3.A: 昨天是星期 \_\_\_\_\_



1. 今天是四月一日。
1. 今天是星期一。
2. 明天是四月二日。
2. 明天是星期二。
3. 昨天是三月三十一日。
3. 昨天是星期日/星期天。