

中文姓名: _____

13(31)-2

英文姓名: _____

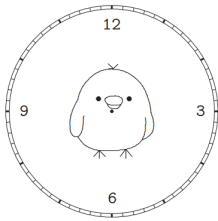
成績: _____

$$\begin{array}{r} \square 9 \\ + 39 \\ \hline 11\square \end{array} \quad \begin{array}{r} 2\square \\ - \square 6 \\ \hline 11 \end{array}$$

17	20	9
- 16	+ 7	+ 18

1. Please draw the clock hands:

1. 画时针跟分针:

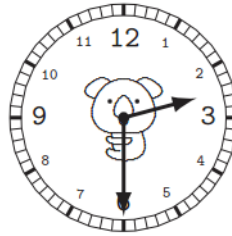


三点三十分。

03 : 30.

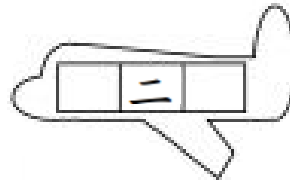
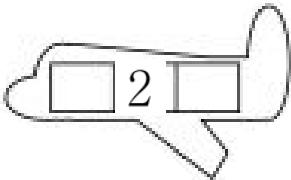
2. Please write down what time it is:

2. 这是几点?



Please write down before and after numbers:

For calendar question: before number is yesterday's date & after number is tomorrow's date.



1.Q: 今天是几月几号/日?

1.A: 今天是

1.Q: 今天星期几?

1.A: 今天是星期

2.Q: 明天是几月几号/日?

2.A: 明天是

2.Q: 明天星期几?

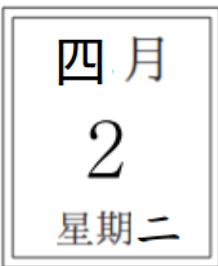
2.A: 明天是星期

3.Q: 昨天是几月几号/日?

3.A: 昨天是

3.Q: 昨天星期几?

3.A: 昨天是星期



- 1. 今天是四月二日。
- 1. 今天是星期二。
- 2. 明天是四月三日。
- 2. 明天是星期三。
- 3. 昨天是四月一日。
- 3. 昨天是星期一。