

中文姓名: _____

13(31)-5

英文姓名: _____

成績: _____

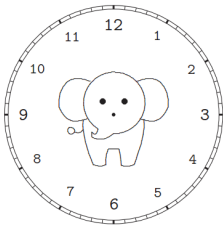
$$\begin{array}{r} 1 \square \\ - 1 \\ \hline 10 \end{array}$$

$$\begin{array}{r} 9 \\ + \square 3 \\ \hline 5 \square \end{array}$$

31	32	11
+ 26	+ 38	+ 21

1. Please draw the clock hands:

1. 画时针跟分针:

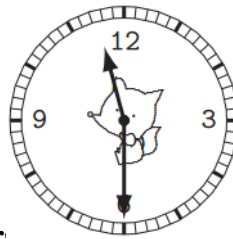


十点三十分。

10:30.

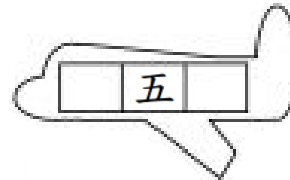
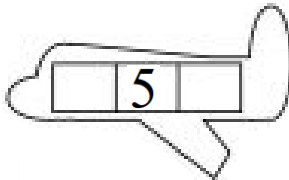
2. Please write down what time it is:

2. 这是几点?



Please write down before and after number.

For calendar question: before number is yesterday's date & after number is tomorrow's date.



1.Q: 今天是几月几号/日?

1.A: 今天是 _____

1.Q: 今天星期几?

1.A: 今天是星期 _____

2.Q: 明天是几月几号/日?

2.A: 明天是 _____

2.Q: 明天星期几?

2.A: 明天是星期 _____

3.Q: 昨天是几月几号/日?

3.A: 昨天是 _____

3.Q: 昨天星期几?

3.A: 昨天是星期 _____



- 1. 今天是四月五日。
- 1. 今天是星期五。
- 2. 明天是四月六日。
- 2. 明天是星期六。
- 3. 昨天是四月四日。
- 3. 昨天是星期四。