

中文姓名: \_\_\_\_\_

14(32)-2

英文姓名: \_\_\_\_\_

成績: \_\_\_\_\_

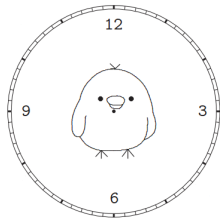
$$\begin{array}{r} 7 \square \\ - 23 \\ \hline \square 2 \end{array}$$

$$\begin{array}{r} 62 \\ + \square 7 \\ \hline 8 \square \end{array}$$

|            |            |           |
|------------|------------|-----------|
| 16<br>+ 13 | 16<br>+ 19 | 19<br>- 6 |
|            |            |           |

1. Please draw the clock hands:

1. 画时针跟分针:



三点三十分。

03:30.

2. Please write down what time it is:

2. 这是几点?

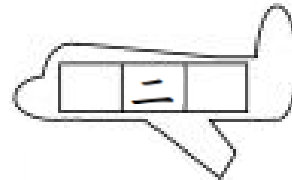
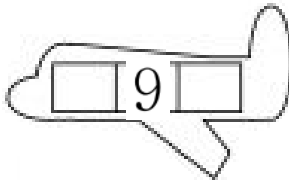


\_\_\_\_\_

\_\_\_\_\_

Please write down before and after numbers:

For calendar question: before number is yesterday's date & after number is tomorrow's date.



1.Q: 今天是几月几号/日?

1.A: \_\_\_\_\_

1.Q: 今天星期几?

1.A: \_\_\_\_\_

2.Q: 明天是几月几号/日?

2.A: \_\_\_\_\_

2.Q: 明天星期几?

2.A: \_\_\_\_\_

3.Q: 昨天是几月几号/日?

3.A: \_\_\_\_\_

3.Q: 昨天星期几?

3.A: \_\_\_\_\_



- 1. 今天 是 四月 九 日。
- 1. 今天 是 星期二。
- 2. 明天 是 四月 十 日。
- 2. 明天 是 星期三。
- 3. 昨天 是 四月 八 日。
- 3. 昨天 是 星期一。