

中文姓名: _____

17(35)-4

英文姓名: _____


成績: _____

4 2	5 4
+ 6 0	- 3 7

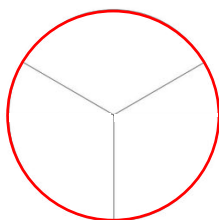
1 4	1 9	1 9
- 1	- 1 0	- 7
- 9	- 7	- 3

1 8	1 2	1 7
+ 6	+ 1 4	+ 1 4
+ 1 5	+ 2 0	+ 1 2


将下列的形状分成 (Divide the shapes into)



Two equal parts
二等分



three equal parts
三等分



four equal parts
四等分



Two equal parts
二等分



three equal parts
三等分



four equal parts
四等分